



**Priorización nivel 1, mes Agosto, "Líneas Imaginarias": Ecuador, Trópicos, Círculos Polares y Polos**

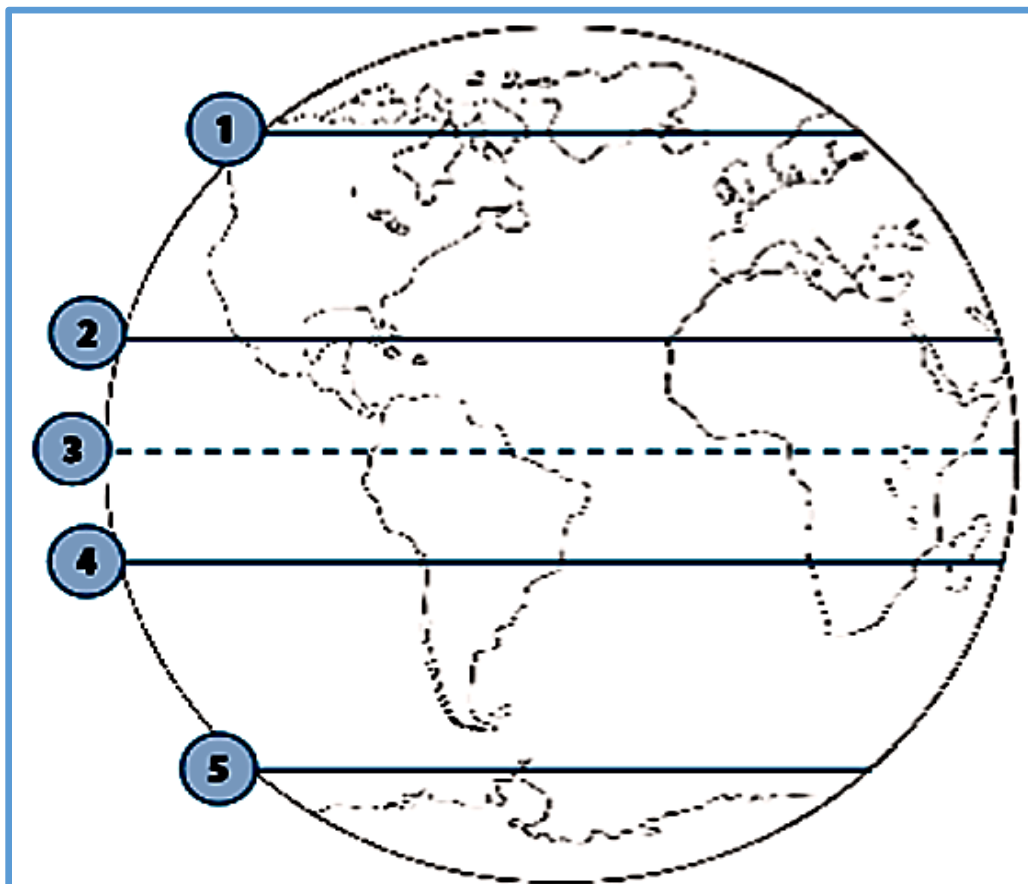
OA PRIORIZADOS HISTORIA	OA ORIORIZADOS ORIENTACIÓN
OA 7: Distinguir hemisferios, círculo del Ecuador, trópicos, polos, continentes y océanos del planeta en mapas y globos terráqueos. (Geografía)	(OA1) Observar, describir y valorar sus características, habilidades y fortalezas (en lo familiar, afectivo, académico y social, entre otros)

**Objetivo de la clase (OA7):** Dibujar y rotular en mapas o globos terráqueos la línea del Ecuador, los trópicos, los círculos polares y los polos.



**Los trópicos:** son líneas imaginarias que están dibujadas a la misma distancia, al norte y al sur del círculo del Ecuador.  
La línea que está en el hemisferio norte se llama, **trópico de Cáncer**.  
La línea que está en el hemisferio sur se llama **trópico de Capricornio**.

- I. **Actividad:** Ubica las líneas de referencia del planeta Tierra (círculo polar Ártico, círculo polar Antártico, línea del Ecuador, trópico de Cáncer y trópico de Capricornio).



1. \_\_\_\_\_
2. \_\_\_\_\_
3. \_\_\_\_\_
4. \_\_\_\_\_
5. \_\_\_\_\_

Para complementar tus conocimientos trabaja en la página 37 del texto del estudiante.  
Si quieres conocer más sobre Líneas imaginarias, <https://www.youtube.com/watch?v=E4jCuGVBBHc>  
visita y escribe Líneas imaginarias| Sapiens tv|cap.10  
<https://www.youtube.com/watch?v=E4jCuGVBBHc>

### Priorización nivel 1, mes Agosto, "Hemisferios": Norte y Sur.

**Objetivo de la clase (OA7):** Distinguir y rotular los hemisferios norte y sur.

**Los hemisferios:** podemos dividir la Tierra en dos mitades: norte y sur.

La línea imaginaria que las separa está al centro de la Tierra y se llama **círculo del ecuador**.

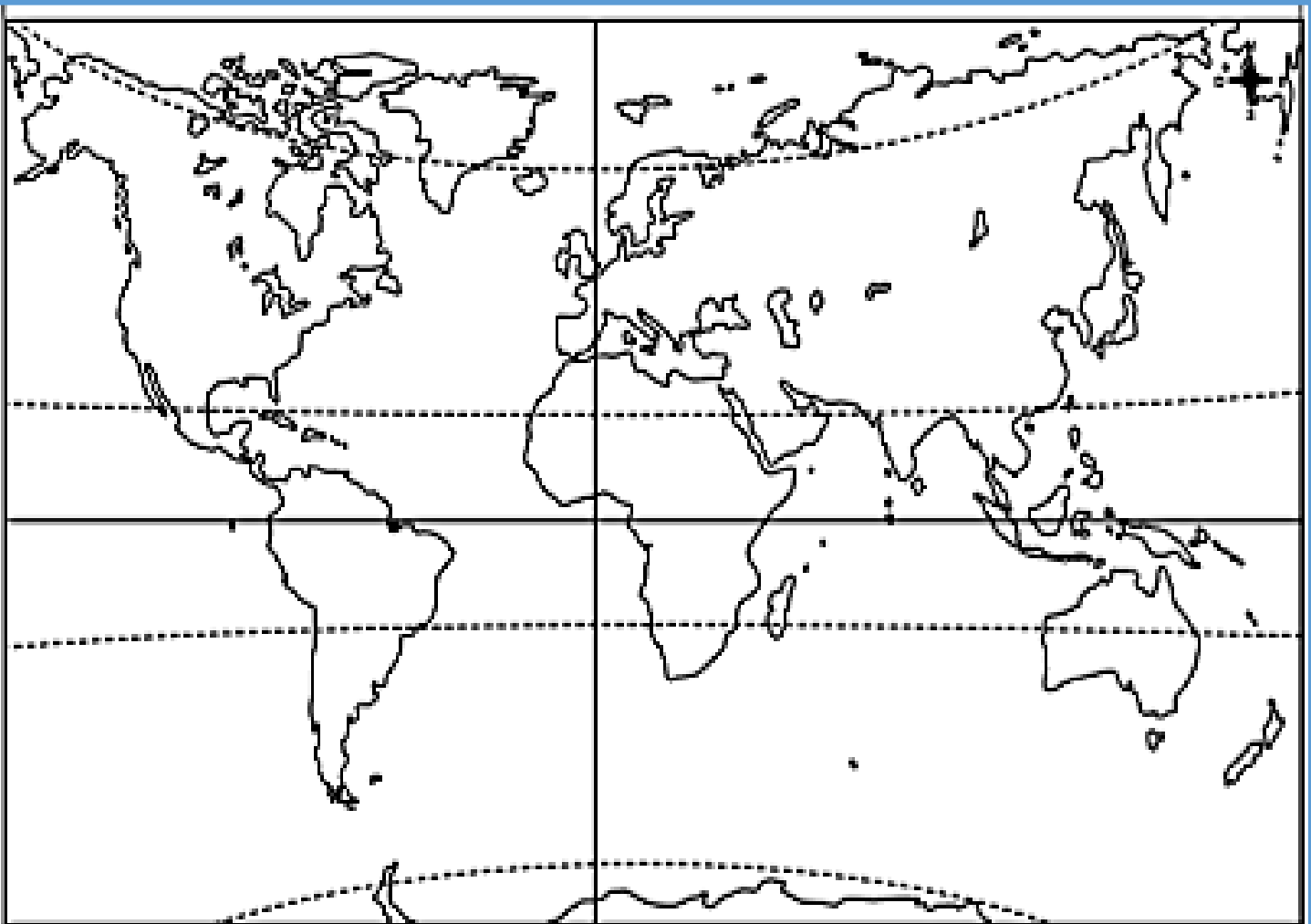
Todos los territorios que están al norte de esa línea imaginaria, pertenecen al hemisferio norte.

Todos los territorios que están al sur de esta línea imaginaria, forman parte del hemisferio sur.



**I. Actividad, Pintar:**

- rojo: la línea del trópico de Capricornio.
- verde: la línea del trópico de Cáncer.
- azul: el círculo del Ecuador.
- naranja: la línea del círculo polar Antártico.
- morado: la línea del círculo polar Ártico.



Para complementar tus conocimientos trabaja en la página 38 del texto del estudiante.

Si quieres conocer más sobre Líneas imaginarias, visita <https://www.youtube.com/watch?v=bC6VXZeWtAgy> escribe paralelos y meridianos (Movie Maker) analucia.wmv <https://www.youtube.com/watch?v=bC6VXZeWtAg>



## EVALUACIÓN DE HISTORIA

Nombre y apellido: \_\_\_\_\_ PI:20 pts    NOTA \_\_\_\_\_

PR: \_\_\_\_\_ pts    Nivel de logro: \_\_\_\_\_    Porcentaje de logro: \_\_\_\_\_

I. **Actividad:** Determina si cada una de las siguientes frases sobre la ubicación de las líneas de referencia de la Tierra es verdadera (V) o falsa (F). **2 pts c/u**



1. \_\_\_\_\_ Los polos están al centro de la Tierra.
2. \_\_\_\_\_ El trópico de Cáncer está en el Hemisferio norte.
3. \_\_\_\_\_ Los Hemisferios dividen la Tierra en Este y Oeste.
4. \_\_\_\_\_ El círculo del Ecuador es la línea que separa a la Tierra en dos Hemisferios.
5. \_\_\_\_\_ El trópico de Cáncer está al Norte del Polo Sur.
6. \_\_\_\_\_ El círculo del Ecuador está al Sur del Trópico de Cáncer.

I. **Actividad:** Lee las preguntas y pinta el casillero de las respuestas correctas. **2 pts c/u**

1. Representación del planeta Tierra que busca imitar su forma:

Plano	Mapa	Globo Terráqueo
-------	------	-----------------

2. Océano que se ubica al oeste de América:

Atlántico	Pacífico	Antártico
-----------	----------	-----------

3. Zona geográfica de Chile en la que se encuentra el desierto de Atacama:

Norte	Centro	Sur
-------	--------	-----

4. País de América que se ubica al este de Chile:

Argentina	Perú	Bolivia
-----------	------	---------



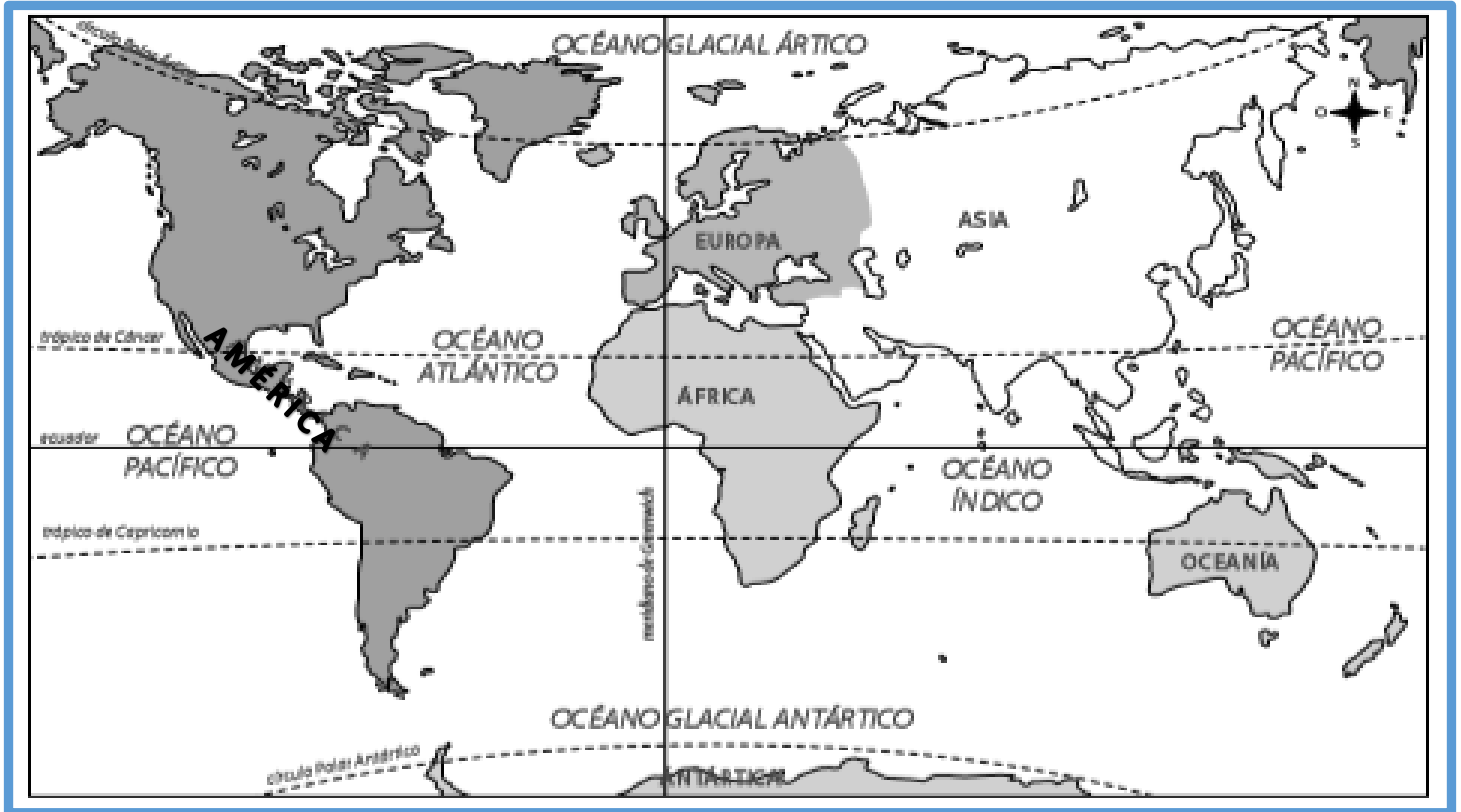
**✓ SACAR FOTO, REVISAR QUE SE NOTE CLARAMENTE LAS RESPUESTAS. (ENVIAR)**



**Priorización nivel 1, mes Agosto, "Ubicación Relativa": Líneas Imaginarias.**

**Objetivo de la clase (OA7):** Ubicar en globos terráqueos y mapas línea del Ecuador, los hemisferios, los puntos cardinales, los continentes y los océanos.

- I. Actividad:** Marca en el mapa con una X los continentes y encierra en un círculo los océanos. Pinta de color rojo al continente que está más hacia el oeste del mapa.



- II. Actividad:** Marca con una x el continente que corresponda.

	América	Europa	África	Asia	Oceanía	Antártica
¿En qué continente está Chile?						
¿Qué continentes tienen tierras en el hemisferio sur?						
¿Qué continentes tienen tierras en el hemisferio norte?						
¿Qué continentes atraviesan la línea del Ecuador?						
¿Qué continentes atraviesan el trópico de Cáncer?						
¿Qué continentes atraviesan el trópico de Capricornio?						

Para complementar tus conocimientos trabaja en la página 34 del texto del estudiante.  
Si quieres conocer más sobre Los Continentes, visita <https://www.youtube.com/watch?v=6cXUG54e8zU> y escribe Los Niños Aprenden sobre Los Continentes - Videos Educativos para Niños con Barney El Camión <https://www.youtube.com/watch?v=6cXUG54e8zU>



**Priorización nivel 1, mes Agosto, "Continentes y Océanos": Características**

**Objetivo de la clase (OA7):** ¿Cómo son los Continentes y de los océanos?

**I. Actividad:** Ubica y escribe en los cuadro los nombres de los Continentes y Océanos.

Ubicar Continentes	Ubicar Océanos
<ul style="list-style-type: none"> <li>➤ América del Norte</li> <li>➤ América Central</li> <li>➤ América del Sur.</li> <li>➤ Europa.</li> <li>➤ África</li> <li>➤ Asia</li> <li>➤ Oceanía</li> <li>➤ Antártida.</li> </ul>	<ul style="list-style-type: none"> <li>➤ Océano Pacífico</li> <li>➤ Océano Atlántico</li> <li>➤ Océano Índico</li> <li>➤ Océano/Mar Antártico</li> <li>➤ Océano Ártico</li> </ul>

A world map with continents color-coded: North America (light green), South America (green), Europe (red), Africa (yellow), Asia (orange), Australia (purple), and Antarctica (pink). The map includes latitude lines labeled: Círculo polar Ártico, trópico de Cáncer, Círculo del ecuador, trópico de Capricornio, and Círculo polar Antártico. A compass rose is in the top right. Lines connect empty boxes to various parts of the map: one box points to the Arctic region, another to the Atlantic Ocean, one to the Pacific Ocean, one to the Indian Ocean, one to the Antarctic region, one to the continent of Asia, one to the continent of Africa, one to the continent of Australia, one to the continent of South America, and one to the continent of North America.

Para complementar tus conocimientos trabaja en la página 35 del texto del estudiante.  
Si quieres conocer más sobre Los Océanos, visita <https://www.youtube.com/watch?v=MIDk4pEIAtQ>  
y escribe OCEANOS <https://www.youtube.com/watch?v=MIDk4pEIAtQ>



## EVALUACIÓN DE HISTORIA

### Trabajo Práctico:

- Para realizar la evaluación debes entrar a la siguiente página de YouTube, link <https://www.youtube.com/watch?v=MgGvM1yE-sc>
- Aquí te explican paso a paso "Cómo hacer un globo Terráqueo de papel (Maqueta)
- Asegúrate que el tamaño del globo escogido sea tamaño adecuado para pegar los continentes. (se entrega **molde de los continentes** para recortar y pegar).
- Si no tienes algún material puedes reemplazarlo, no hay problema.
- Debes sacar 4 fotos al proceso de tu trabajo, incluyendo el trabajo terminado( Enviar WhatsApp)
- Una vez pegado, debes escribir con **pequeños carteles** en nombre de los **océanos**.

**Tipo de Evaluación:** Práctica (Confección de Maqueta)

PAUTA DE EVALUACIÓN			
La maqueta (Globo terráqueo)	Logrado (3 pts)	Medianamente Logrado (2 pts)	Vía de Logro (1 pts)
• Uso de materiales y adecuación de ellos.			
• Envió de 3 fotos de proceso.			
• Envió de 1 foto de trabajo terminado.			
• Nombre de Continentes.			
• Nombre de Océanos.			
<b>Puntaje Real: 15 pts      Puntaje Ideal: _____ pts</b> <b>Nota: _____</b>			



