

Priorización nivel 1, mes Agosto, "El tiempo"

Nombre y Apellido: _____ Fecha: ___ / ___ / ___

Objetivo Priorizado: Historia	Objetivo Priorizado: Orientación
Historia Secuenciar acontecimientos y actividades de la vida cotidiana, personal y familiar, utilizando categorías relativas de ubicación temporal, como antes, después; ayer, hoy, mañana; día, noche; este año, el año pasado, el año próximo. (OA 2)	Observar, describir y valorar sus características personales, sus habilidades e intereses. (OA 1)

Objetivo de la clase: Reconocer eventos que duran más y que duran menos. (OA 2)

¿CUÁNTO DURAN NUESTRAS ACCIONES?

De todas las acciones y actividades que realizamos cada día, algunas son de **corta duración** y otras de **larga duración**.

Las de **corta duración** nos toma **poco tiempo** realizarlas, como atarse los zapatos o inflar un globo.



Las de **larga duración** requieren **más tiempo** para realizarlas, como hacer un viaje o andar en bicicleta.



1. Coloca el signo **+** para las acciones que duran más tiempo y el signo **-** para las acciones que duran menos tiempo, en cada caso.

a. Jugar en el recreo

d. Sacar punta al lápiz

b. Tomar una fotografía

e. Dormir

c. Escuchar un cuento

f. Lavarse los dientes


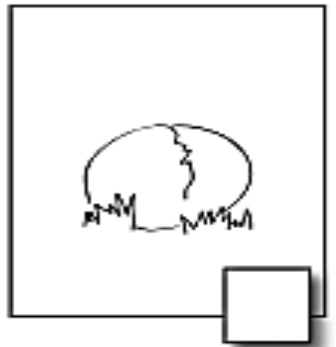
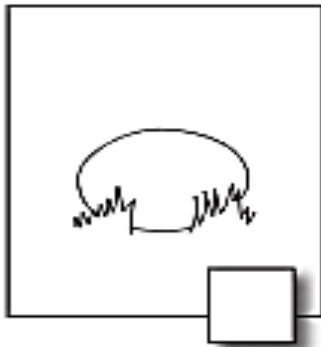
Priorización nivel 1, mes Agosto, "El tiempo"

Nombre y Apellido: _____ Fecha: ____ / ____ / ____

Objetivo de la clase: Ordenar cronológicamente secuencias dadas. (OA 2)

SECUENCIANDO

1. Observa y ordena, colocando los números del 1 al 4 en los correspondientes.



Evaluación Formativa Agosto N° 1

Nombre y Apellido: _____ Fecha: ___ / ___ / ___

INSTRUCCIONES -

- ✓ Debes responder la evaluación de forma individual. Pero pon atención porque tu apoderado leerá cada pregunta para que puedas responder la evaluación.
- ✓ Escribir tu respuesta con lápiz de color rojo.
- ✓ Una vez que finalices la evaluación, debes enviar una foto de ella al WhatsApp.

1. Observa la imagen y encierra la alternativa correcta, ¿cuál es el orden correcto de los números, para que el perrito quede bañado? 2 pts.



- A) 3 - 1 - 2
B) 1 - 2 - 3
C) 3 - 2 - 1

2. Dibuja dos actividad, una actividad de larga duración y la otra de corta duración. 4 pts.

1. Larga duración	2. Corta duración

Ptje Ideal: 6 pts.

Priorización nivel 1, mes Agosto, "El tiempo"

Nombre y Apellido: _____ Fecha: ____ / ____ / ____

Objetivo de la clase: Reconocer eventos del día usando categorías como; Año pasado, próximo año y este año. (OA 2)

AÑO PASADO, ESTE AÑO Y PRÓXIMO AÑO

1. Escribe el número de las imágenes en el año correspondiente.



Año pasado



Próximo año



Este año

2. Responde las siguientes preguntas pintando la alternativa correcta.

A. ¿En qué curso estuviste el año pasado?

1º Básico

2º Básico

Kinder

b. ¿En qué curso estarás el próximo año?

1º Básico

2º Básico

Kinder

Priorización nivel 1, mes Agosto, "El tiempo"


Nombre y Apellido: _____ Fecha: ___ / ___ / ___

Objetivo de la clase: Identificar los cambios en su vida personal y familiar con el paso del tiempo. (OA 2)

ME ORIENTO EN EL TIEMPO

Una forma de ver cómo avanza el tiempo es observando el crecimiento de las personas. Tú, por ejemplo, cada día estás más grande y tus características físicas han ido cambiando.

1. Pega una foto tuya de hace tres años y otra que muestre como eres hoy.



2. ¿Qué aspectos has cambiado en este tiempo? Pinta de **rojo** los que correspondan.

Estatura

Nombre

Gustos

Amigos

Colegio

Juegos

Responsabilidades

Evaluación Formativa Agosto N° 2

Nombre y Apellido: _____ Fecha: ___ / ___ / ___

INSTRUCCIONES -

- ✓ Debes responder la evaluación de forma individual. Pero pon atención porque tu apoderado leerá cada pregunta para que puedas responder la evaluación.
- ✓ Escribir tu respuesta con lápiz de color rojo.
- ✓ Una vez que finalices la evaluación, debes enviar una foto de ella al WhatsApp.

Responde:

1. Hoy Andrés está celebrando su cumpleaños número 7 ¿Cuándo podrá celebrar Andrés su cumpleaños número 8? Encierra la alternativa correcta. 2 pts.

a) El año próximo.

b) Este año.

c) Dentro de dos años más.

2. ¿En cuál de las siguientes imágenes se ve correctamente el orden de crecimiento de María Alejandra? Marca una **X** en tu respuesta. 2 pts.



3. Dibújate cómo eres ahora y cómo crees que serás en un tiempo más. 4 pts.

Ahora	Después

Ptje Ideal: 8 pts.